

**Демонстрационный вариант промежуточной  
итоговой аттестации 8 класса по географии**

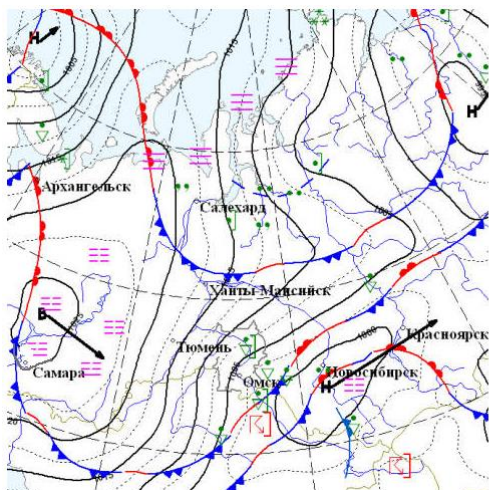
**Часть 1**

При выполнении заданий этой части верным является только один ответ. В бланке ответов №1 под номером выполняемого Вами задания (1-30) впишите цифру в клеточке, номер которой соответствует выбранного Вами ответа.

- 1** Укажите крайнюю западную материковую точку России  
А. Мыс Флигели В. Мыс Диксон  
Б. Балтийская коса Г. Мыс Лопатка
- 2** Выберите основной район добычи каменного угля в России:  
А. Становое нагорье В. Кузнецкая котловина  
Б. Срединный хребет Г. Приволжская возвышенности
- 3** В Москве (II часовой пояс) 10 часов. Сколько в данный момент в Якутске (VIII часовой пояс):  
А. 24 ч. В. 17 ч.  
Б. 16 ч. Г. 2 ч.
- 4** Наиболее низкие температуры января зарегистрированы...  
А. в Европейской части В. На Дальнем Востоке  
Б. в Западной Сибири Г. на Северо – Востоке Сибири
- 5** Определите, какие из перечисленных рек относятся к бассейн Атлантического океана  
А. Волга, Терек, Урал В. Амур  
Б. Кубань, Кубань Г. Лена, Енисей, Обь
- 6** Какой тип почв считается самым плодородным в России:  
А. тундрово-глеевые В. серые лесные  
Б. подзолистые Г. черноземные
- 7** В одной из природных зон растения имеют следующие особенности: стелющиеся и карликовые формы, многолетний цикл развития, преобладают мхи и лишайники. Определите, в какой из природных зон они произрастают:  
А. тайга  
Б. зона смешанных и широколиственных лесов  
В. тундра  
Г. зона степей
- 8** Для зоны степи характерны животные:  
А. выхухоль В. лемминг и песец  
Б. суслики, дрофа, стрепет Г. стрепет
- 9** Выявите, какой из перечисленных факторов в наибольшей степени затрудняет добычу нефти и газа в Западной Сибири  
А. заболоченность территории  
Б. тектоническое строение  
В. большая мощность снежного покрова  
Г. тундровая растительность
- 10** Циклоны на территории России наиболее часто определяют погоду...  
А. Востока и Северо–Востока Сибири В. Западной Сибири  
Б. Восточно – Европейской равнины Г. Восточной Сибири
- 11** Совокупность организационно-хозяйственных и технических мероприятий, направленных на коренное улучшение земель:  
А. Мелиорация Б. Агротехника  
В. Эрозией Г. Рекультивацией
- 12** С какой страной самая протяженная граница с Россией?  
А. Украина В. Китай  
Б. Армения Г. Белоруссия

- 13** Участок земной коры, занимающий приподнятое положение по отношению к окружающим областям:  
А. Платформа      В. Горст  
Б. Щит              Г. Морена
- 14** Полуостров Ямал расположен в природной зоне:  
А. арктических пустынь      В. хвойных лесов (тайга),  
Б. тундры и лесотундры      Г. широколиственных лесов
- 15** В каком случае верна, указана смена почвенных горизонтов от поверхности вглубь земли?  
А. Материнская порода – гумусовый – вымывания – вмывания  
Б. Гумусовый – вымывания – вмывания – материнская порода  
В. Гумусовый – вмывания – вымывания – материнская порода  
Г. Вмывания – материнская порода – гумусовый – вымывания
- 16** Дон относится к рекам с:  
А. летним половодьем      В. паводочным режимом  
Б. весенним половодьем      Г. равномерным стоком
- 17** Природный постоянный водный поток (водоток) значительных размеров с естественным течением по руслу:  
А. река                      В. водохранилище  
Б. болото                      Г. озеро
- 18** В умеренном климатическом поясе при движении с востока на запад наблюдает:  
А. Средние температуры января и количество осадков увеличиваются  
Б. Температуры января понижаются, а количество осадков возрастает  
В. Температуры января повышаются, а количество осадков уменьшается  
Г. Температуры января и количество осадков уменьшаются

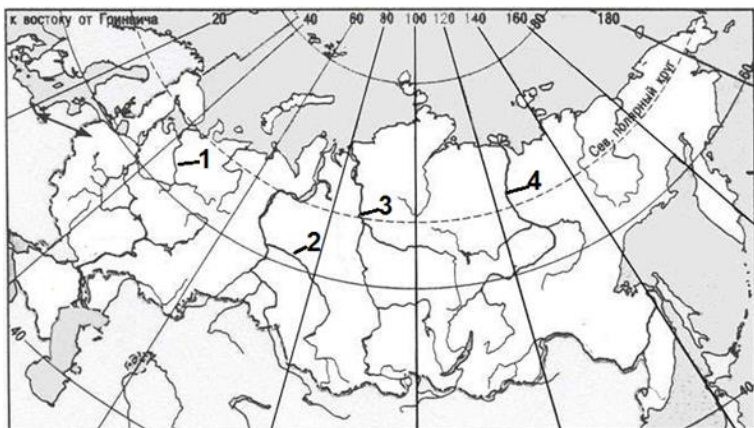
- 19** Открыл пролив между Америкой и Азией, названный в его честь, исследовал северные и восточные берега России  
А. Витус Беринг                      В. Н. М. Пржевальский  
Б. Афанасий Никитин              Г. Давид Ливингстон
- 20** Область повышенного давления с ветрами, направленными от центра с нисходящими потоками. Приносит ясную и сухую погоду  
А. циклон                              В. антициклон  
Б. атмосферный фронт              Г. бриз
- 21** Небольшое количество высотных поясов в горах Урала связано с:  
А. геологическим строением  
Б. количеством осадков  
В. высотой гор  
Г. воздействием арктических масс
- 22** Для изучения природы дельты р. Волги создан заповедник:  
А. Кандалакшский                      В. Астраханский  
Б. Баргузинский                      Г. Галичья гора
- 23** Используя данные приведенной карты, составленной на 21 октября, определите, в каком из перечисленных городов на следующий день наиболее вероятно существенное похолодание?  
А. Красноярск                              В. Тюмень  
Б. Ханты - Мансийск                      Г. Самара



### Часть 2

Ответом к заданиям этой части является последовательность (1-6) цифр, число или слово. Впишите ответы в бланк ответов №1 справа от номера соответствующего задания.

**1** Установите соответствие между цифрой на карте России и названием реки. К каждому элементу первого столбца подберите соответствующий элемент из второго и внесите в строку ответов выбранные цифры под соответствующими буквами.



| РЕКА           | РАСПОЛОЖЕНИЕ НА КАРТЕ |
|----------------|-----------------------|
| Северная Двина | 1                     |
| Обь            | 2                     |
| Лена           | 3                     |
|                | 4                     |

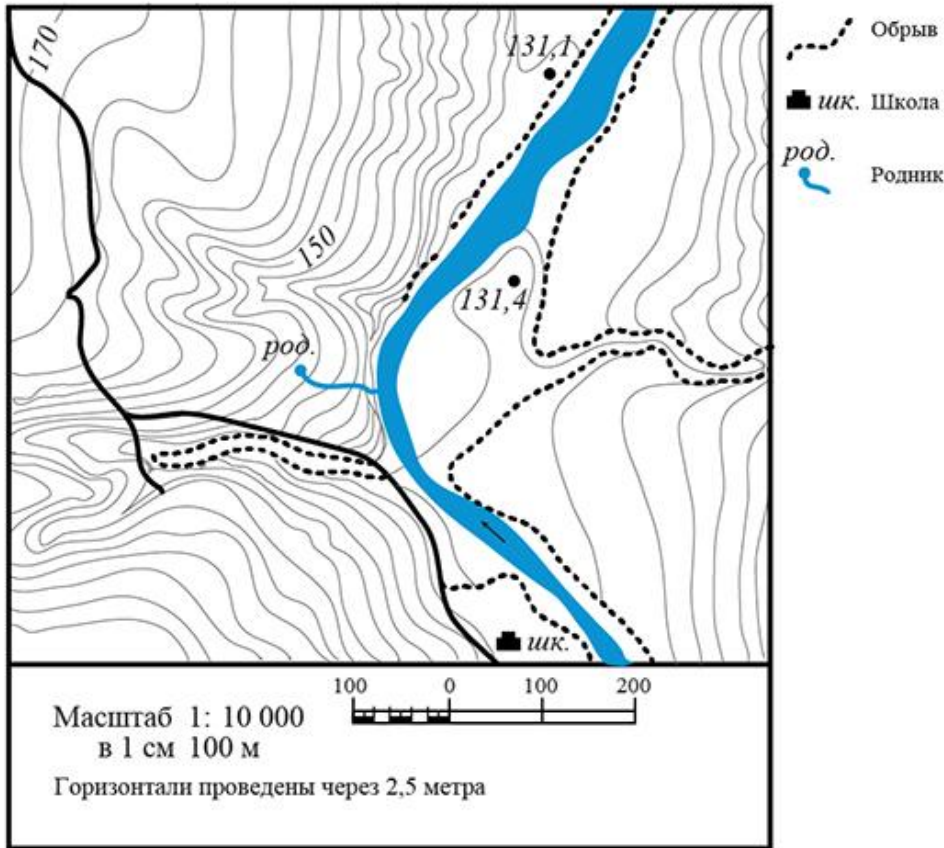
**2** Решите задачу:

В соответствии с законом "Об исчислении времени" и постановлением правительства России с сентября 2011 г. на территории страны устанавливаются 9 часовых зон. Самолёт вылетел из Санкт-Петербурга (II-я часовая зона) в Калининград (I-я часовая зона) в 10 часов по московскому времени. Расчётное время полёта составляет 2 часа. Сколько времени будет в Калининграде, когда самолёт приземлится? Ответ запишите цифрами.

**3** Расположите перечисленные периоды геологической истории Земли в хронологическом порядке начиная с самого раннего. Укажите ответ в виде последовательности буквенных обозначений выбранных элементов.

- А) каменноугольный
- Б) палеогеновый
- В) меловой

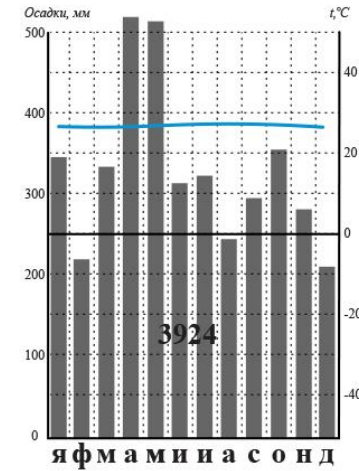
**4** Определите по карте расстояние на местности по прямой от родника до вершины 131,1 м. Ответ дайте в метрах, округленный до десятков.



5 Туристические фирмы различных регионов России разработали слоганы (рекламные лозунги) для привлечения туристов в свои регионы. Установите соответствие между слоганом и регионом.

| Слоган региона  | Регион   |
|---|--|
| А) Посетив летом наш регион, ты своими глазами сможешь полюбоваться таким природным явлением, как белые ночи. | 1. Краснодарский край<br>2. Калининградская<br>3. Ленинградская область<br>4. Астраханская область |
| Б) Побывав в регионе, ты увидишь дельту одной из крупных рек Европы, полюбуешься цветением лотоса.            |  |

6 Проанализируйте климатограмму и определите название климатического пояса.



### Часть 3

Для записи ответов на задания этой части (1-3) используйте бланк ответов №2. Запишите сначала номер задания, а затем развернутый ответ на него.

1 Укажите основные цели и задачи современной географии как науки

2 Опишите основные экологические проблемы России.

**Ответы к демонстрационному варианту  
промежуточной итоговой аттестации  
8 класс**

**Часть 1**

| Ф.И.<br>класс        |  | Демонстрационный<br>вариант |   |   |   |   |   |   |   |   |    |    |    |    |    |    |    |    |    |    |    |    |    |    |
|----------------------|--|-----------------------------|---|---|---|---|---|---|---|---|----|----|----|----|----|----|----|----|----|----|----|----|----|----|
| №<br>воп<br>рос<br>а |  | 1                           | 2 | 3 | 4 | 5 | 6 | 7 | 8 | 9 | 10 | 11 | 12 | 13 | 14 | 15 | 16 | 17 | 18 | 19 | 20 | 21 | 22 | 23 |
| А                    |  |                             |   |   |   |   |   |   |   | + |    | +  |    |    |    |    | +  |    | +  |    |    |    |    |    |
| Б                    |  | +                           |   | + |   | + |   |   | + |   | +  |    |    |    |    |    |    | +  |    |    | +  |    | +  |    |
| В                    |  |                             | + |   |   |   |   | + |   |   |    |    | +  | +  | +  |    |    |    |    |    |    | +  |    | +  |
| Г                    |  |                             |   |   | + |   | + |   |   |   |    |    |    |    |    |    |    |    |    | +  |    |    |    |    |

**Часть 2**

1. А: 2; Б: 4; В: 1
2. 11
3. АБВ
4. 430
5. А4Б2
6. Экваториальный

**Часть 3**

1. Опишите основные цели и задачи современной географии как науки  
Современная география - это сложная разветвленная система, или "семья" наук - естественных (физико-географических) и общественных (экономико-географических), связанных общим происхождением и общими целями. Одна из важнейших задач современной географии - изучение процессов взаимодействия природы и общества в целях научного обоснования рационального использования природных ресурсов и сохранения благоприятных условий для жизни человека на нашей планете.
2. Опишите основные экологические проблемы России

**Экология России** характеризуется большим количеством различных экологических проблем. Многие из них достались России в наследство от Советского Союза, где хозяйствование зачастую приводило к загрязнению окружающей среды, особенно в тяжелой промышленности и добыче полезных ископаемых. В то время часто власти считали озабоченность экологическими проблемами несущественной и ненужной. В результате, по некоторым оценкам, около 40% территории России к концу 1990-х гг. испытывали на себе серьезные экологические проблемы, такие, как обезлесение, радиоактивное загрязнение, загрязнение воздуха и воды. По официальным данным, на 15% территории Российской Федерации, где проживает примерно 60% населения, качество окружающей среды является неудовлетворительным